










1. Trage die Uhrzeiten in die Rechtecke ein.

6:15





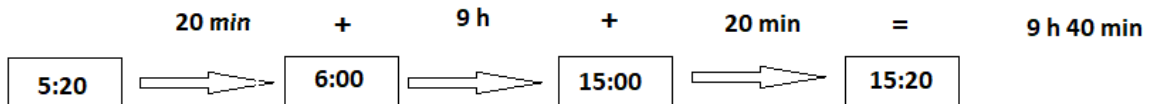





2. Bestimme jeweils die Zeit, die noch bis 20:00 Uhr vergehen muss. Trag die Zeiten in die Tabelle ein.

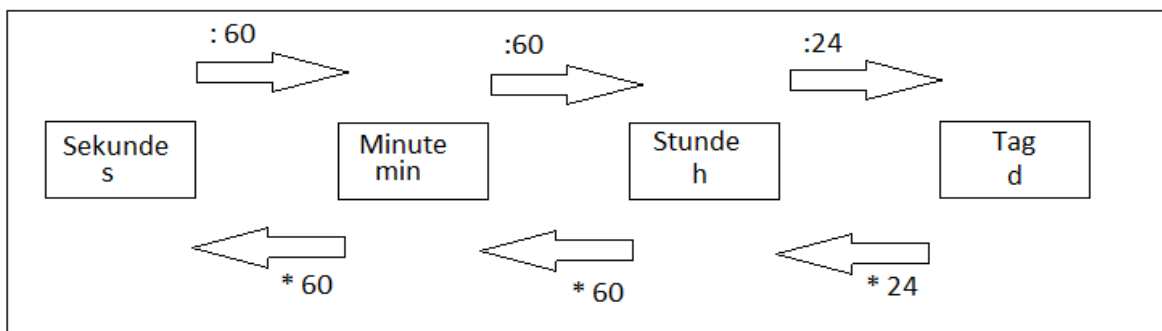
**Beispiel:** Bestimme erst die fehlenden Minuten bis zur vollen

Stunde, dann die Stunden bis zur letzten vollen Stunde und dann die noch fehlenden Minuten. Rechne alles zusammen.



Uhrzeit	Minuten bis zur nächsten vollen Stunde	Stunden bis 20:00 Uhr	Gesamtzeit
14:20 Uhr	40 min	5 h	5h 40 min

**Zusatz:** Erfrage die Zeit vom Sonnenaufgang und vom Sonnenuntergang. Wie lange war die Sonne über dem Horizont? (bitte das Datum mit angeben)



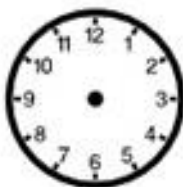
3. In der nächsten Aufgabe sollst du die Einheiten der Zeit wiederholen und einige Umrechnungen dazu durchführen.

600 s =		min	
	480 min =		h
7200 s =		min =	h
	7200 min =		h =            d
s =		min =	h =            2d
s =		min =	72 h =            d

4. Schreibe immer in die kleinere Einheit um.

1 h 10 min =	2 h 45 min =	4 h 16 min =
2 min 30 s =	5 min 40 s =	10 min 6 s =
3 d 12 h =	4 d 8 h =	10 d 15 h =

5. Trage die Uhrzeiten in die Uhren ein (kleiner Zeiger rot-großer Zeiger blau).



16:25 Uhr



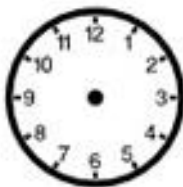
9:45 Uhr



23:50 Uhr



2:30 Uhr



15:15 Uhr



12:50 Uhr



17:00 Uhr



3:15 Uhr